

Ma mobilité

Où en suis-je ?



Vous venez d'être orienté (ou êtes sur le point de finir), un parcours mobilité ayant pour objectif de vous aider à vous déplacer plus facilement dans le cadre de votre projet d'insertion socio-professionnel.

Ces exercices permettent d'identifier vos connaissances et compétences de mobilité actuelles, afin de vous proposer un parcours adapté à vos besoins. Quelle que soit votre capacité à réaliser ou non ces exercices, vous serez accompagné pour que la mobilité de soit plus un frein à vos projets.

En fin de parcours, ces exercices permettent de valoriser vos acquis par rapport à votre entrée dans le dispositif. Vous devriez avoir plus de facilité à les réaliser.

Les échanges avec votre conseiller-ère mobilité sont prioritaires, c'est pourquoi un temps de 40 minutes maximum est consacré à ces exercices. Le reste du temps doit vous permettre de discuter avec votre conseiller-ère.

Quelques consignes avant de commencer :

- Ces exercices peuvent-être réalisés seul ou avec l'aide de votre conseiller-ère mobilité
- Ils peuvent être réalisés dans n'importe quel ordre
- Ce n'est pas grave si vous ne répondez pas à tous les exercices
- Ce n'est pas grave si vous n'avez pas le temps de finir les exercices

Ce test est disponible aussi sur internet en cliquant [ICI](#)

Cocher la case correspondante :

- J'entre dans un parcours mobilité
- Je finis mon parcours mobilité

Indiquez votre nom et prénom

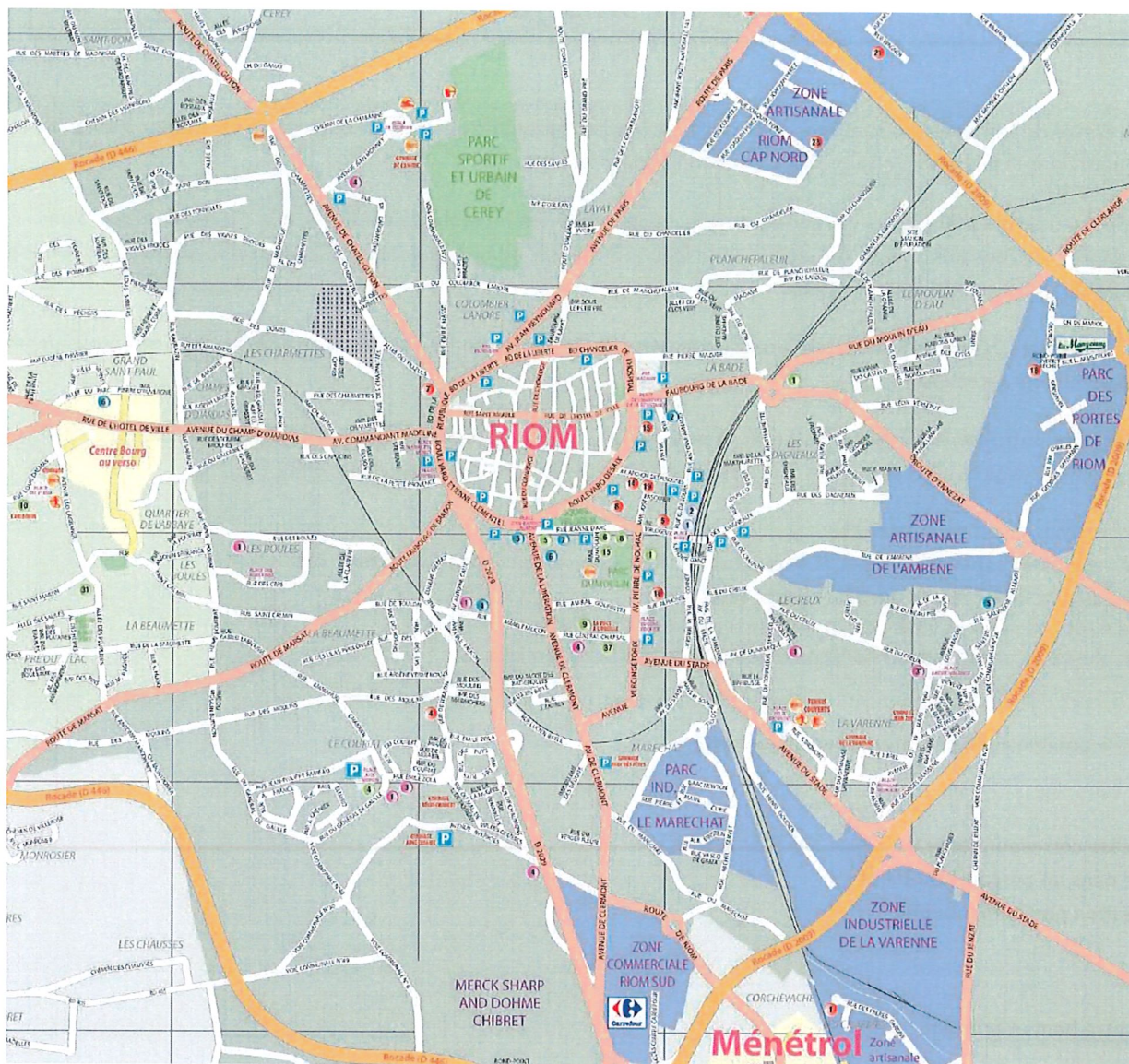
.....

Indiquez l'heure à laquelle vous avez commencé les exercices

.....

Activité 1 - Lecture de plans et cartes

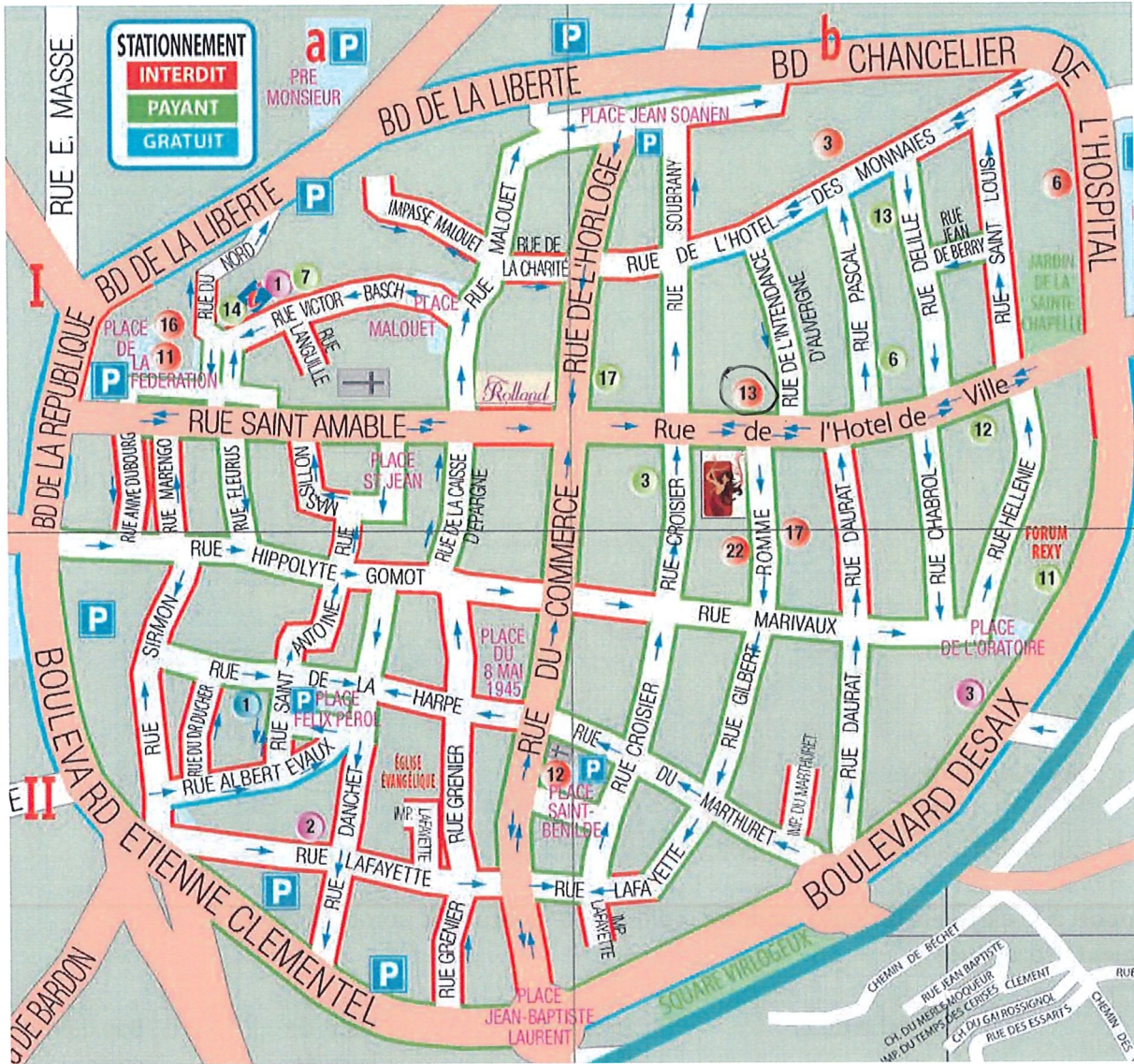
Observez le plan ci-dessous :



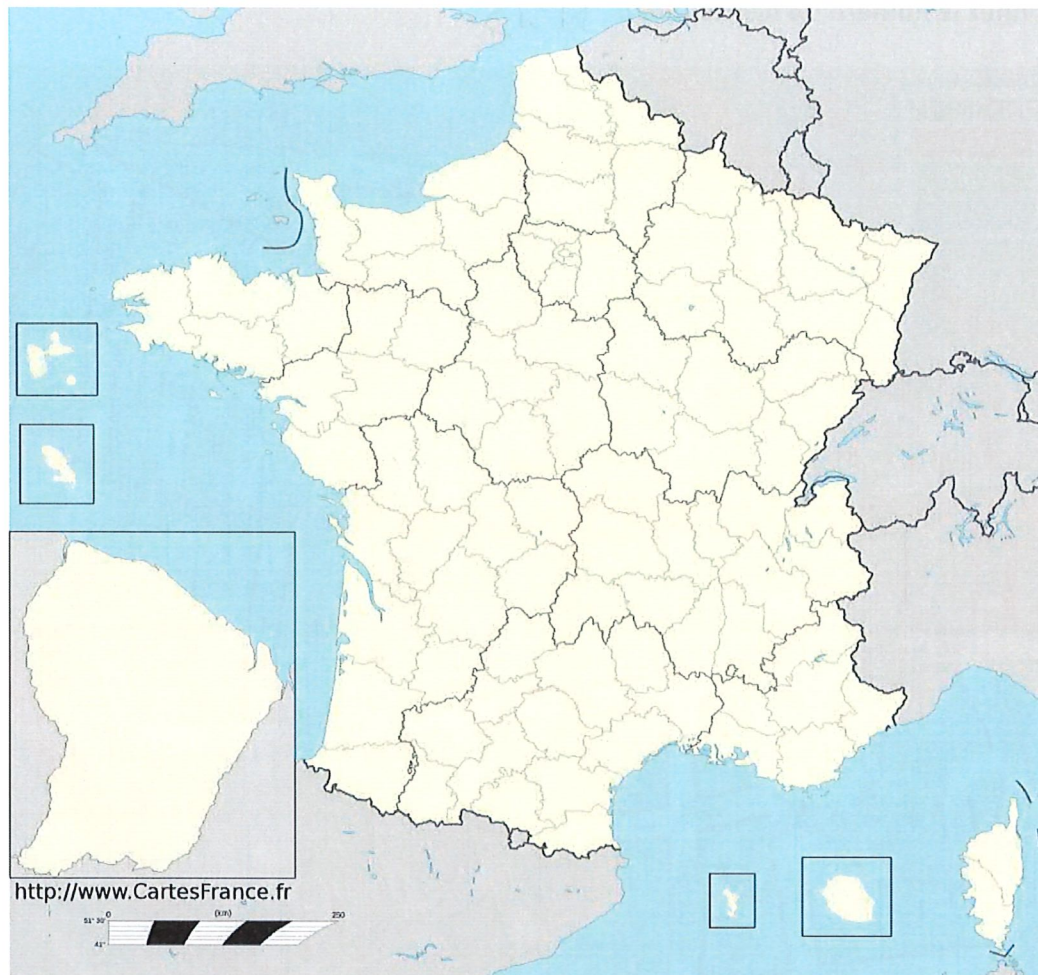
Répondez à la question en cochant la bonne réponse :

- Où se trouve la zone artisanale de l'Ambene ?
 au sud au nord à l'est à l'ouest

Julien habite à l'angle de la rue de l'hôtel de ville et de la rue de l'intendance. Avec l'aide du plan suivant, sélectionnez le numéro où habite Julien N°13



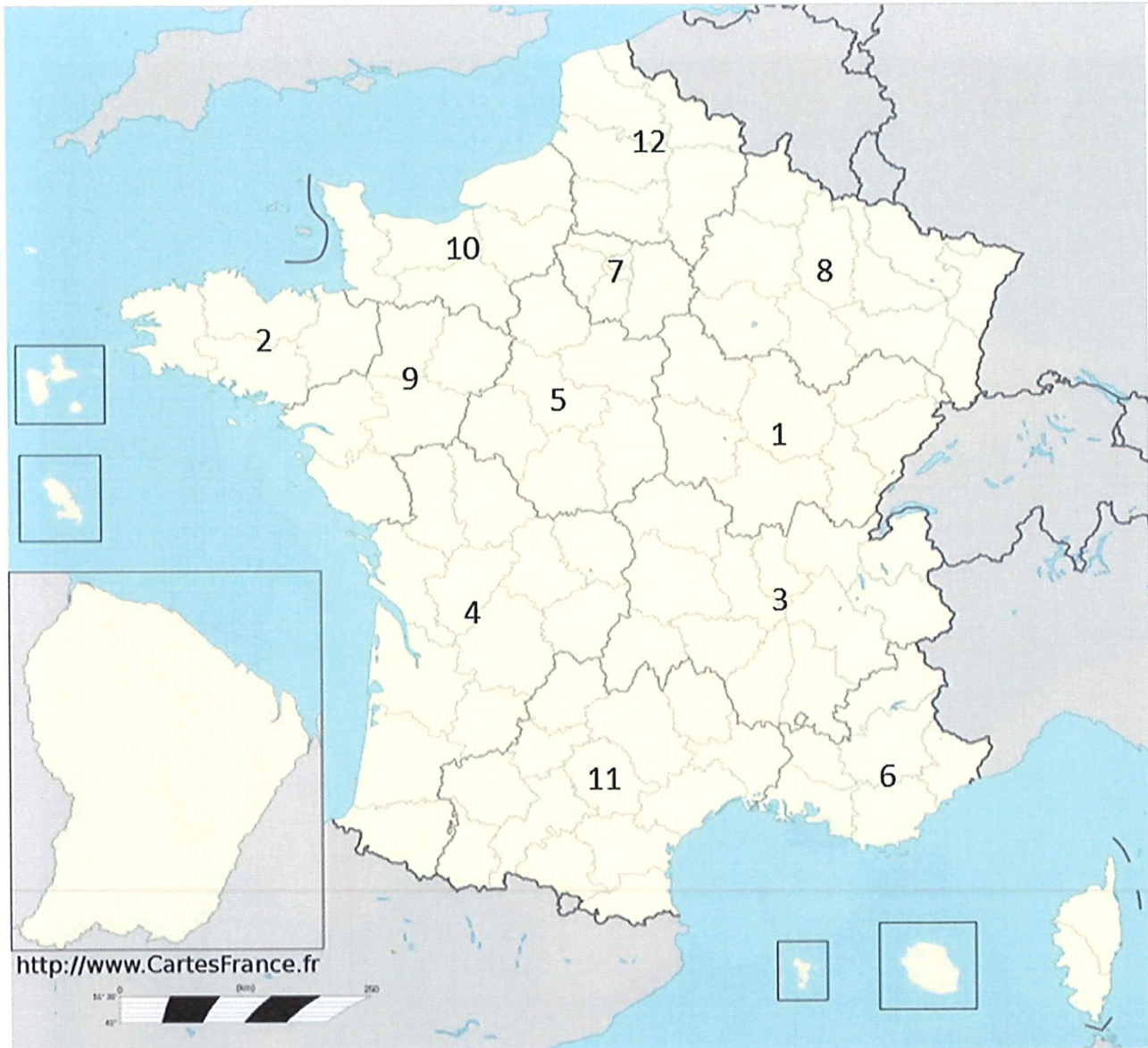
Observez la carte ci-dessous :



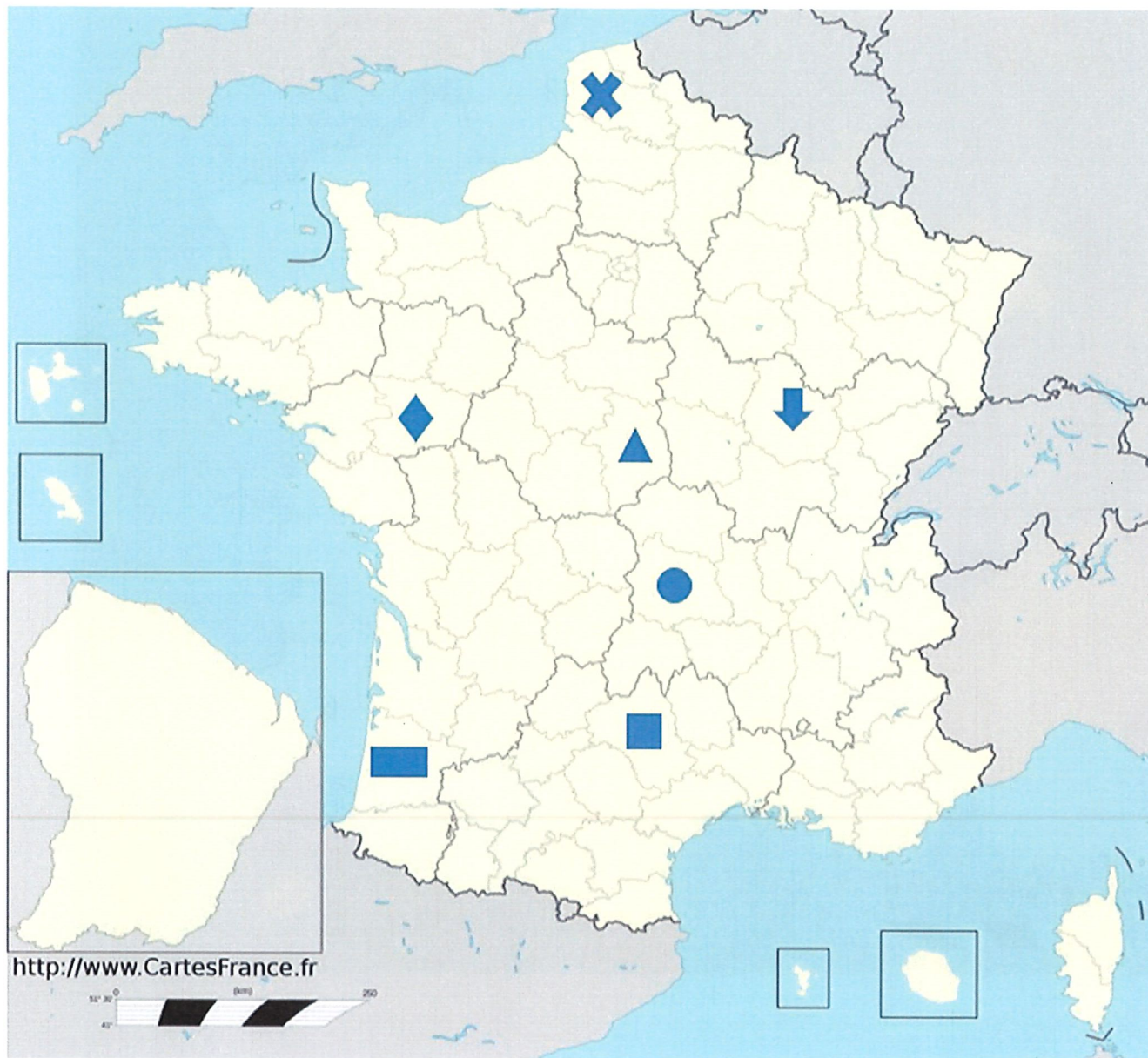
Par rapport à la carte précédente, veuillez indiquer où se situe les points cardinaux (Est, Ouest, Nord, Sud) :

	Gauche de la carte	Droite de la carte	Haut de la carte	Bas de la carte
Est	X			
Ouest		X		
Nord			X	
Sud				X

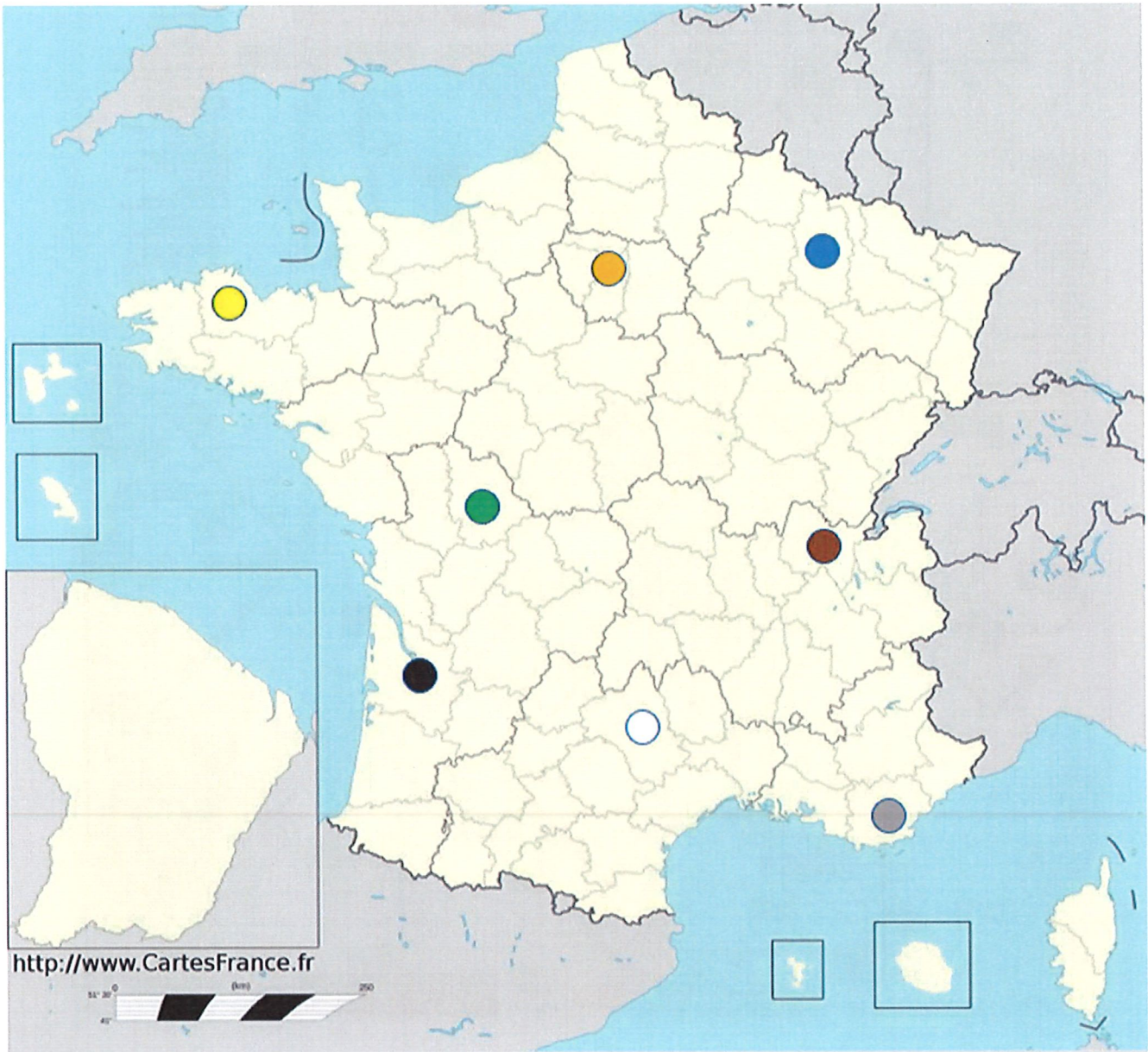
Quel numéro correspond à notre Région ? **N°3**



Quelle forme correspond à notre Département ? ... *Je corde*

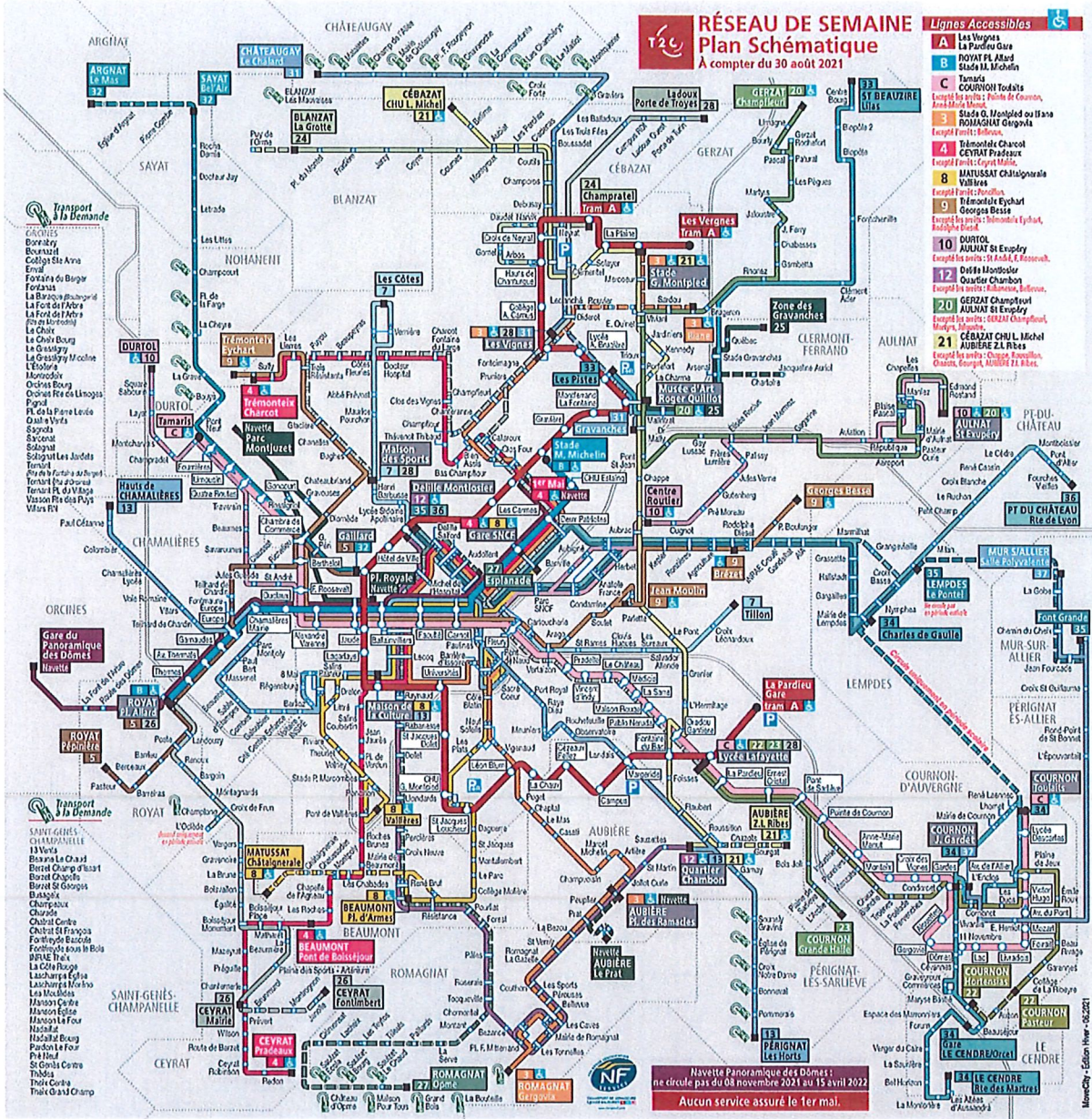


Quelle couleur correspond à l'endroit où se situe Paris ?... Orange





Observez ce plan :



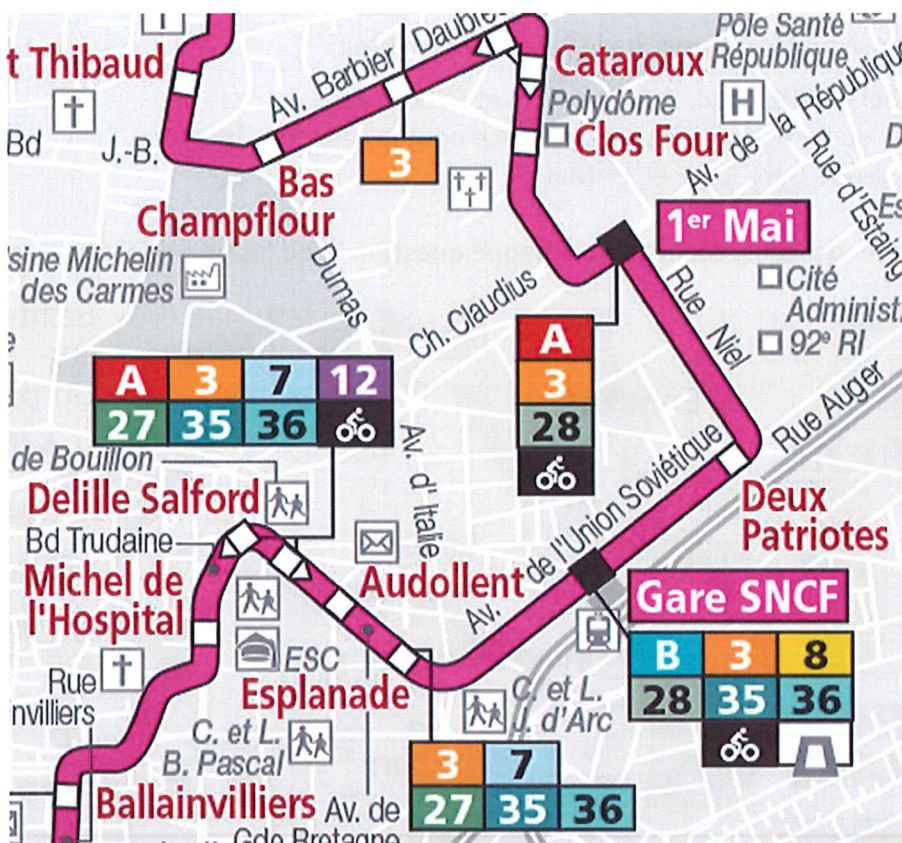
Selon vous que représente-t'il ?

Il représente le plan schématique du réseau de transport en commun de la T2C.....

Où peut-on trouver ce plan ?

On peut trouver ce plan sur le site internet de la T2C ainsi que sur le guide horaire T2C.....

A l'aide du document ci-dessous, cochez pour chaque question la ou les bonne(s) réponse(s) :

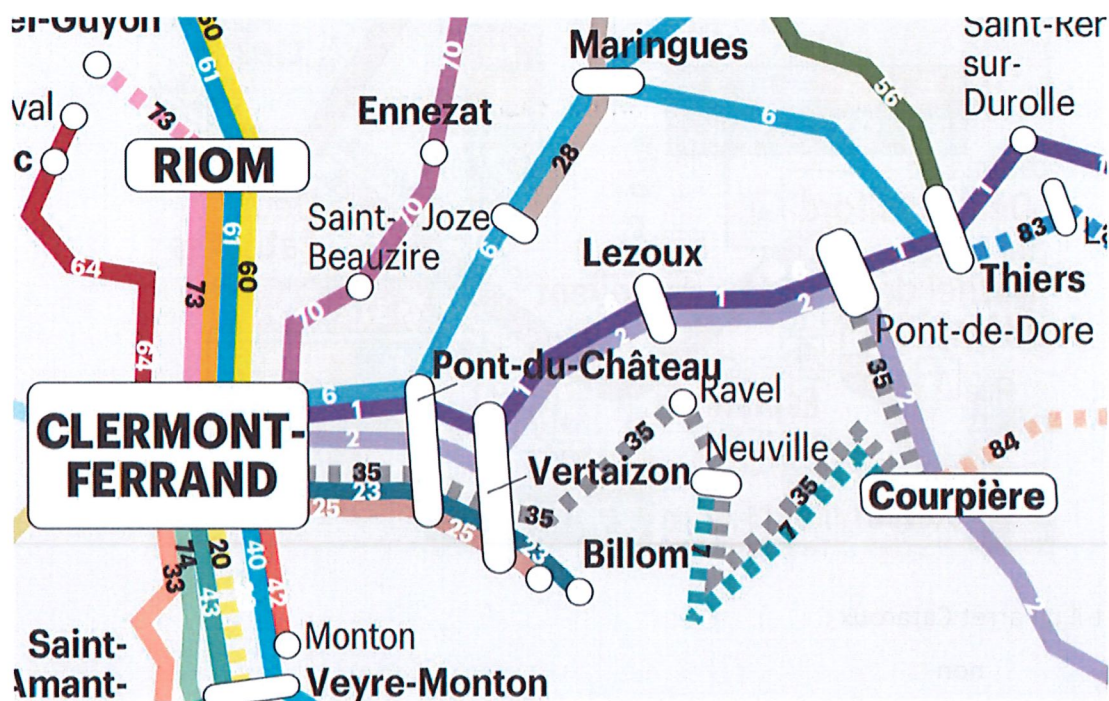


- Existe-t-il un arrêt Cataroux :
oui non
- A l'arrêt Esplanade, peut-on prendre une correspondance avec la ligne 35 :
oui non
- La correspondance pour la ligne A peut se prendre à l'arrêt :

Delille Salford	<input checked="" type="checkbox"/>
Gare SNCF	<input type="checkbox"/>
1 ^{er} Mai	<input checked="" type="checkbox"/>

- L'arrêt Audollent est situé entre :
 Michel de l'Hospital et Delille Salford
 Delille Salford et Esplanade
 Esplanade et Gare SNCF
- La correspondance pour les lignes 3 et 28 peut se prendre :
 Aux arrêts Michel de l'Hospital, Delille Salford et Cataroux
 A tous les arrêts où il existe une correspondance pour la ligne B
 Seulement aux arrêts Gare SNCF et 1^{er} Mai

A l'aide du document ci-dessous, cochez pour chaque question la ou les bonne(s) réponse (s)



- La ligne 60 au départ de Clermont permet de se rendre à Riom :
 Vrai Faux
- La ligne 2 au départ de Clermont permet de se rendre à Billom :
 Vrai Faux
- La ligne 6 passe par Pont du Château et Vertaizon :
 Vrai Faux

- La ligne 35 permet de se rendre à Thiers en passant par Courpière :
Vrai Faux

Activité 2 - savoir lire des horaires et un billet de train

1) A l'aide du document, répondez aux questions suivantes :

* sauf fêtes	Lun à Ven*	Lun à Ven*	Lun à Sam*	Lun à Ven*	Lun à Ven*	Lun à Ven*	Lun à Ven*	Dim	Lun à Ven*	Sam*	Lun à Sam*	Lun à Ven*	Lun*	Lun à Ven*	Tous les jours	Tous les jours	Lun à Ven*	Sam Dim Fêtes	Tous les jours
	ter	ter	ter	ter	ter	ter	ter	ter	ter	ter	ter	ter	ter	ter	ter	ter	ter	ter	ter
CLERMONT-FERRAND	05.33	05.45	05.59	06.03	06.33		06.47	07.02	07.03	07.28	07.36	08.06		09.03	09.49	10.40	12.03	12.21	12.40
CLERMONT-LA PARDIEU	05.38	05.49	06.03	06.08	06.38		06.51	07.07	07.08	07.33	07.41	08.11		09.08	09.54	10.45	12.08	12.26	12.45
ISSOIRE	06.05	06.13	06.27	06.35	07.05	07.10	07.15	07.30	07.35	07.57	08.14	08.47	08.52	09.35	10.17	11.08	12.35	13.01	13.09
LE BREUIL-SUR-COUZE											08.21								
LE BREUIL(Salle des Fêtes)						07.20							09.07						
LE SAUT-DU-LOUP						07.26													
BRASSAC-LES-MINES		06.26	06.40			07.40	07.30	07.44		08.11	08.30			10.32	11.22				13.24
ARVANT		06.32	06.45			07.56	07.37	07.50		08.17	08.36			10.38	11.27				13.30
BRIOUDE		06.40				08.06	07.45			08.26	08.44				10.46				13.38
	♦	♦	♦	♦	♦		♦	♦	♦	♦	♦	♦	♦	♦	♦	♦	♦	♦	♦
	♣	♣	♣	♣	♣		♣	♣	♣	♣	♣	♣	♣	♣	♣	♣	♣	♣	♣

- Mr X habite à Clermont-Ferrand et doit se rendre à Brioude pour un entretien d'embauche à 9h00 le mardi 25 avril. A quelle heure doit-il prendre le train pour arriver à l'heure à son rendez-vous ?
07H36
- Mlle Y prend le train du lundi au vendredi à Clermont Pardieu pour se rendre à son travail pour 12h à Brassac les Mines. Quels sont ses horaires de départ et d'arrivée ?
Départ : 10H45
Arrivée : 11H22
- Au départ de Clermont-Ferrand, Mme Z doit rejoindre Issoire à 13h15 mardi prochain afin de signer son contrat de travail. A quelle heure arrivera-t-elle ?
12H35.



2) A l'aide du document, répondez aux questions suivantes :

SNCF E-BILLET Nominatif, incessible, pièce d'identité à présenter lors du contrôle
RIOM CHATEL GUYON → PARIS GARE LYON

Départ 03/06 à 05H42 de RIOM CHATEL GUYON Arriv. à 08H56 à PARIS GARE LYON INTERCITES 5950	Nom / Prénom _____ Classe 2 DUO
VOITURE 07 PLACE ASSISE 8 BILLET ECH/REMB SOUS CONDITIONS - VALABLE SUR CE TRAIN 01FENETRE	Dossier TJGTZU Références client 0029090169231180269
Départ à de *** Arriv. à à	01 ADULTE 29.50 Prix EUR **29.50 N° e-billet 310980051

Présence à quai obligatoire 2 mn avant départ
 270521 JR11 08722235291816

- A quelle heure part le train pour Paris ? **05H42**
- A quelle heure arrive-t-il à Paris ? **08H56**
- Combien coûte mon billet ? **29€50**
- Quelle est la date du voyage ? **03/06**
- Quel est le n° de la place réservée ? **Place n°8 Voiture 7**
- Que dois-je faire avec mon billet avant de prendre le train ? **Le composer**

Activité 3 – Compétences de repérage dans l'espace et de latéralité

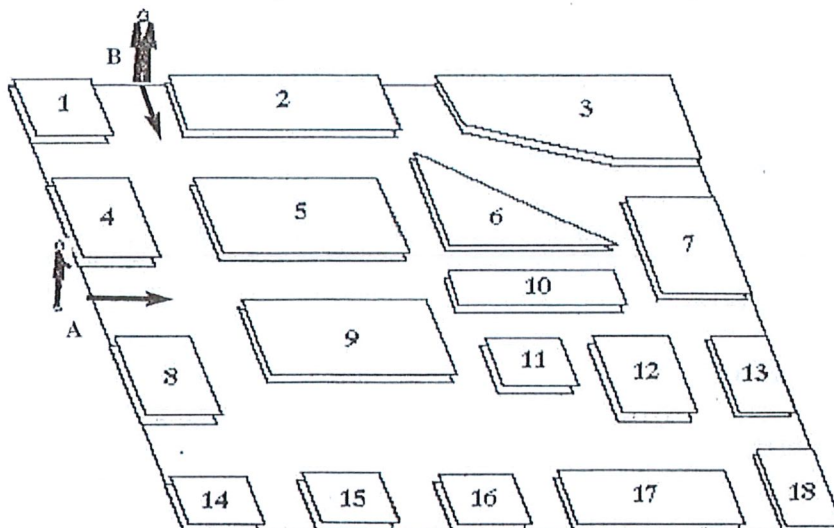
Déplacez les personnages selon les indications suivantes et répondez aux questions :

- Le personnage A prend la première rue à sa gauche, puis la première rue à droite, puis à nouveau la première rue à droite. Enfin, le personnage A va tout droit. En face de quel bâtiment se trouve-t-il ?

.....16.....

- Le personnage B prend la première rue à sa gauche, puis la première rue à sa droite, puis à nouveau la première rue à droite. Il va prendre ensuite la première rue à gauche, puis aller toujours tout droit. Où se trouve-t-il quand il ne peut plus avancer ?

Entre le bâtiment 14 et 15.



Activité 4 - Respecter des consignes

Lire toutes les consignes avant de commencer.

1. Écrire son nom et son prénom
2. La ville de Billom compte combien d'habitants ?
 - a. 10 000 habitants
 - b. 524 habitants
 - c. 356 987 habitants
 - d. 500 habitants
3. Décrivez le dernier repas que vous avez pris
4. Existe-t-il un tramway à Clermont-Ferrand ?
 - a. Oui
 - b. Non
5. Ecrivez l'heure à laquelle vous êtes en train de faire ce test
6. Ne répondez pas à la consigne suivante
7. Combien émet de CO₂ (en Kg) un trajet en voiture entre Ambert et Thiers ?
 - a. 24 Kg de CO₂
 - b. 0.5 Kg de CO₂
 - c. 250 Kg de CO₂
 - d. 341 Kg de CO₂
8. Ne répondez qu'aux consignes : 1,4,5 et 6.

Activité 5 - Construire un itinéraire simple ou multimodal

Lisez l'offre d'emploi.

Serveur / Serveuse en restauration 63 - RIOM -

L'enseigne Charles Bonpain recrute un(e) serveur(se) de restauration.

Vos missions : accueil et conseil clientèle, prise de commandes et encaissement, préparation des commandes, service au plateau...

Vous êtes dynamique, souriant(e), vous aimez le contact avec les clients.

Une expérience dans la restauration rapide et/ou dans la restauration sera appréciée.

Vous travaillez du lundi au samedi. 1 jour de repos dans la semaine

- Contrat à durée indéterminée
Contrat travail
- 35H Horaires normaux
- Salaire : Horaire de 10,03 Euros

Vous habitez rue Fontaine du Bac à Clermont-Ferrand.

Vous devez préparer vos trajets aller et retour pour répondre aux conditions de travail présentées dans cette offre d'emploi.

A l'aide du site Internet de votre choix recherchez le trajet le mieux adapté pour l'aller et le retour puis écrivez votre réponse en expliquant votre choix (préciser le numéro du transport en commun et l'arrêt, dans l'ordre d'utilisation).

.....

.....

.....

.....

.....

.....

.....

.....

.....

.....

.....

.....

.....

.....

.....

.....

Pour les trajets du retour, recherchez une solution alternative aux transports en commun.
Ecrivez votre réponse en expliquant votre choix.

Covoiturage

.....

.....

.....

.....

.....

.....

.....

.....

.....

.....

.....

.....

.....

.....

.....

.....

.....

.....

.....

.....

.....

.....

.....