

Quizz mobilité

Vous venez d'être orienté (ou êtes sur le point de finir), un parcours mobilité ayant pour objectif de vous aider à vous déplacer plus facilement dans le cadre de votre projet d'insertion socio-professionnel.

Ces exercices permettent d'identifier vos connaissances et compétences de mobilité actuelles, afin de vous proposer un parcours adapté à vos besoins. Quelle que soit votre capacité à réaliser ou non ces exercices, vous serez accompagné pour que la mobilité de soit plus un frein à vos projets.

En fin de parcours, ces exercices permettent de valoriser vos acquis par rapport à votre entrée dans le dispositif. Vous devriez avoir plus de facilité à les réaliser.

Les échanges avec votre conseiller-ère mobilité sont prioritaires, c'est pourquoi un temps de 40 minutes maximum est consacré à ces exercices. Le reste du temps doit vous permettre de discuter avec votre conseiller-ère.

Quelques consignes avant de commencer :

- Ces exercices peuvent-être réalisés seul ou avec l'aide de votre conseiller-ère mobilité
- Ils peuvent être réalisés dans n'importe quel ordre
- Ce n'est pas grave si vous ne répondez pas à tous les exercices
- Ce n'est pas grave si vous n'avez pas le temps de finir les exercices

Ce test est disponible aussi sur internet en cliquant [ICI](#)

Cocher la case correspondante :

- J'entre dans un parcours mobilité
- Je finis mon parcours mobilité

Indiquez votre nom et prénom

.....

Indiquez l'heure à laquelle vous avez commencé les exercices

.....

1. Recopiez le texte suivant

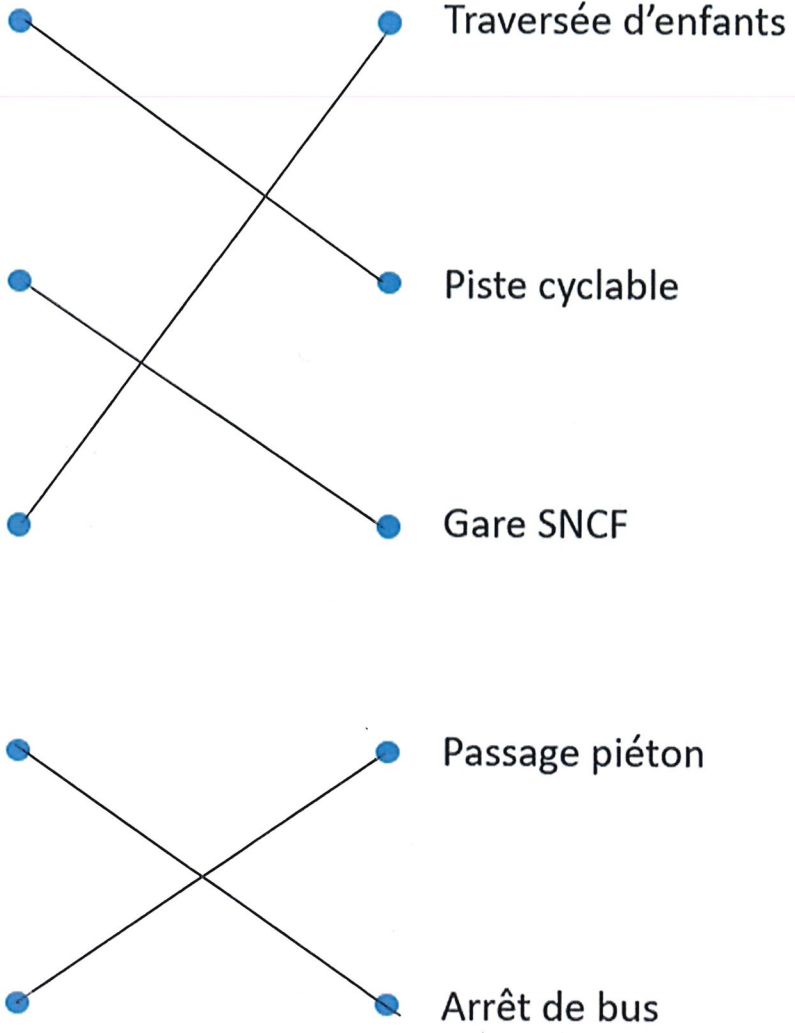
A un stop, je dois m'arrêter. Je contrôle à gauche et à droite avant de redémarrer

.....

.....

.....

2. Reliez les images aux mots ou aux phrases suivantes



3. Cochez la bonne réponse



Tournez à droite

Tournez à gauche



Tournez à droite

Tournez à gauche

4. Reliez chaque information à la phrase qui correspond



17/03/2021



Le poids maximal est de 5,5 Tonnes


Le train part à 12h30

Le billet de train coûte 20 euros


Pierre à rendez-vous le 17 mars 2021

5. Cochez la bonne réponse



1) Quel est le rectangle ?



2) Quel est le triangle ?



3) Quel dessin représente une intersection ?



4) Quel dessin représente une ligne discontinue ?



6. Les chiffres

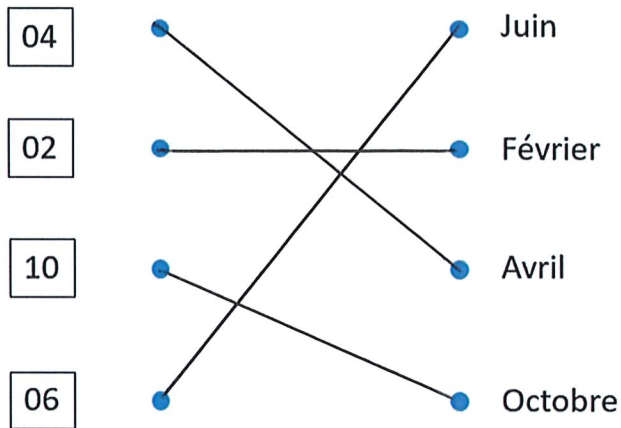
Entourez tous les numéros pairs :



Entourez tous les numéros impairs :

- 3** **Stade G. Montpied / Iliane - ROMAGNAT Gergovia**
Excepté l'arrêt : Bellevue.
- 4** **Trémonteix Charcot - CEYRAT Pradeaux**
Excepté l'arrêt : Ceyrat Mairie.
- 8** **MATUSSAT Châtaigneraie - Vallières**
Excepté l'arrêt : Poncillon.
- 9** **Trémonteix Eychart - Georges Besse**
Excepté les arrêts : Trémonteix Eychart, Rodolphe Diesel.
- 10** **DURTOL - AULNAT St Exupéry**
Excepté les arrêts : St André, F. Roosevelt.
- 12** **Delille Montlosier - Quartier Chambon**
Excepté les arrêts : Rabanesse, Bellevue.
- 20** **GERZAT Champfleuri - AULNAT St Exupéry**
Excepté les arrêts : GERZAT Champfleuri, Martyrs, Jaloustre.
- 21** **CÉBAZAT CHU L. Michel - AUBIÈRE Z.I. Ribes**
Excepté les arrêts : Chappe, Roussillon, Chazots, Gourgat, AUBIÈRE Z.I. Ribes.

Reliez le mois de l'année au chiffre correspondant :



Ecrivez chaque nombre en lettres :

459 : ...Quatre cent cinquante-neuf.....
 96 :Quatre-vingt-seize.....
 20 :vingt.....
 7 :sept.....
 2021 : ...Deux mille vingt et un.....

7. Cochez le bon résultat

$20\text{ m} + 10\text{ m} =$

- 25 m 30 m 10 m

$25\text{ m} - 10\text{ m} =$

- 15 m 35 m 5 m

8. Lisez le texte suivant et répondez aux questions

« La sécurité routière sur la bonne voie en 2010 »

C'est une première. En 2010, le nombre de morts sur les routes est passé sous le seuil des 4000. En effet, 3994 personnes y ont perdu la vie, soit une baisse de 6,5% par rapport à 2009. « Cette diminution correspond à près de 300 vies épargnées en une seule année », s'est félicité hier le ministre de l'Intérieur.

Alors qu'ils constituent une catégorie d'usagers très exposés aux accidents, le nombre de conducteurs de deux-roues tués a fortement baissé : de 20% pour les motocyclettes et de 12% pour les cyclomoteurs. Autre bonne nouvelle: le nombre de blessés diminue aussi de 13,1%.

Delphine Bancaud

1 - Combien de personnes ont été tuées sur la route en 2010 ?

3994

2 - Quelle est la catégorie d'usagers les plus exposés aux accidents ?

Les conducteurs de deux-roues

3 - De combien a baissé le nombre de blessés en 2010?

De 13,1%

